



มหาวิทยาลัยเทคโนโลยีพระจอมเกล้าธนบุรี

การสอบกลางภาคการศึกษาที่ 1 ปีการศึกษา 2561

วิชา PHY302 Electricity and Magnetism

ปริญญาตรีชั้นปีที่ 3 ภาควิชาฟิสิกส์

วันพุธที่ 3 ตุลาคม 2561

เวลา 09.00-12.00 น.

ชื่อ-นามสกุลรหัสนักศึกษา

เลขที่นั่งสอบ

ข้อสอบมีทั้งหมด 10 หน้า (รวมใบปะหน้า) มี 7 ข้อ ข้อละ 10 คะแนน

คำสั่ง

1. ให้เขียนแสดงวิธีทำลงในที่ว่างที่กำหนดให้ ถ้าไม่พอให้เขียนต่อในที่ว่างด้านหลังได้
2. อนุญาตให้ใช้เครื่องคำนวณตามประกาศของมหาวิทยาลัยได้
3. ห้ามนำเอกสารทุกชนิดเข้าห้องสอบ

ผู้ออกข้อสอบ: วิทยา กาญจนภูษากิจ

ข้อสอบชุดนี้ได้ผ่านกลั่นกรองจากคณะกรรมการฯ ของภาควิชาแล้ว

วิทยา กาญจนภูษากิจ

สามารถใช้ค่าคงที่และสูตรต่อไปนี้ได้

ค่าคงที่

Permittivity ของสุญญากาศ	$\epsilon_0 = 8.85 \times 10^{-12} \text{ Fm}^{-1}$
Permeability ของสุญญากาศ	$\mu_0 = 4\pi \times 10^{-7} \text{ Hm}^{-1}$
ขนาดประจุของอิเล็กตรอน	$e = 1.6 \times 10^{-19} \text{ C}$
มวลของอิเล็กตรอน	$m_e = 9.1 \times 10^{-31} \text{ kg}$
มวลของโปรตอน	$m_p = 1.67 \times 10^{-27} \text{ kg}$

สูตร

กฎของเกาส์และกฎของแอมแปร์

	Integral form	Differential form
Gauss' law	$\oint \vec{E} \cdot d\vec{s} = \frac{Q_{in}}{\epsilon_0}$	$\nabla \cdot \vec{E} = \frac{\rho}{\epsilon_0}$
Gauss' law ในสารไดอิเล็กตริก	$\oint \vec{D} \cdot d\vec{s} = Q_f$	$\nabla \cdot \vec{D} = \rho_f$
Ampere's law	$\oint \vec{B} \cdot d\vec{\ell} = \mu_0 I_{enc}$	$\nabla \times \vec{B} = \mu_0 \vec{j}$
Ampere's law ในสารแม่เหล็ก	$\oint \vec{H} \cdot d\vec{\ell} = I_f$	$\nabla \times \vec{H} = \vec{j}_f$

กฎการอนุรักษ์ประจุไฟฟ้า

$$\frac{\partial \rho}{\partial t} + \nabla \cdot \vec{j} = 0$$

กฎของโอห์ม

$$\vec{j} = \sigma \vec{E}$$

สมการ Laplace

$$\nabla^2 \phi = 0, \quad \phi(r, \theta) = \sum_{n=0}^{\infty} \left(A_n r^n + \frac{B_n}{r^{n+1}} \right) P_n$$

โดยที่

$$P_0 = 1, \quad P_1 = \cos \theta, \quad P_2 = \frac{1}{2} (3 \cos^2 \theta - 1), \quad P_3 = \frac{1}{2} (5 \cos^3 \theta - 3 \cos \theta)$$

Dielectric

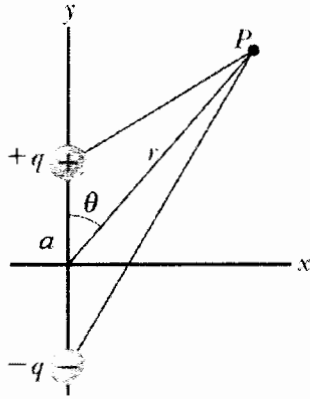
$$\vec{D} = \epsilon_0 \vec{E} + \vec{P}, \quad \vec{D} = \epsilon_r \epsilon_0 \vec{E}, \quad \vec{P} = \chi \epsilon_0 \vec{E}, \quad \epsilon_r = 1 + \chi$$

Magnetic materials

$$\vec{H} = \frac{1}{\mu_0} \vec{B} - \vec{M}, \quad \vec{B} = \mu_r \mu_0 \vec{H}, \quad \vec{M} = \chi \vec{H}, \quad \mu_r = 1 + \chi$$

1. สนามไฟฟ้าในบริเวณหนึ่งเป็นไปตามฟังก์ชัน $\vec{E} = xy\vec{i} + yz\vec{j} + zx\vec{k}$ กำหนดให้ S เป็นพื้นผิวปิดรูปลูกบาศก์ โดยมีขอบเขตคือ $0 < x < 2$, $0 < y < 2$, $0 < z < 2$ จงใช้ divergence theorem เพื่อคำนวณหา
- a) ฟลักซ์ที่ผ่านพื้นผิวปิด S [8]
 - b) ปริมาณประจุไฟฟ้าภายในพื้นผิวปิด S [2]

2.



ไดโพลประกอบด้วยประจุ $+q$ และ $-q$ ห่างกันเป็นระยะทางเท่ากับ a บนแกน y ดังรูป จุด P เป็นจุดที่อยู่ห่างออกไปจากจุดกึ่งกลางของไดโพลเป็นระยะทางเท่ากับ r เส้นตรงที่ลากจากจุดกึ่งกลางไดโพลไปยังจุด P ทำมุม θ กับแกน y

a) ในกรณีที่จุด P อยู่ไกลมาก จงอธิบายว่าทำไมศักย์ไฟฟ้าที่จุด P คือ

$$\phi = \frac{qa \cos \theta}{4\pi\epsilon_0 r^2}$$

[6]

b) จากข้อ a) จงหาสูตรของสนามไฟฟ้าที่จุด P

[4]

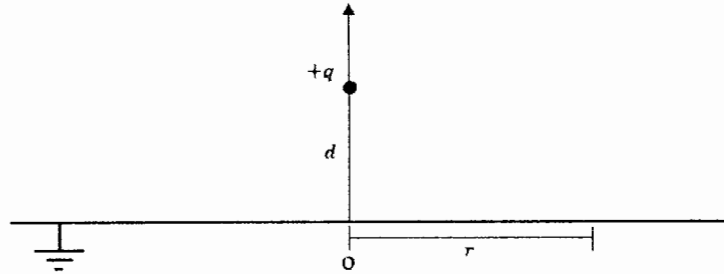
$$\left[\text{Hint: } \nabla f = \left(\frac{\partial f}{\partial r}, \frac{1}{r} \frac{\partial f}{\partial \theta} \right) \right]$$

3. ทรงกลมรัศมี a มีศักย์ไฟฟ้าที่ผิวเป็นไปตามสมการ $\phi(a, \theta) = 2 - \cos \theta$ ใน spherical polar coordinates
จงแก้สมการ $\nabla^2 \phi = 0$ เพื่อหาศักย์ไฟฟ้า $\phi(r, \theta)$ ทั้งภายนอกและภายในทรงกลม [10]

4. จงอธิบาย Uniqueness Theorem

[3]

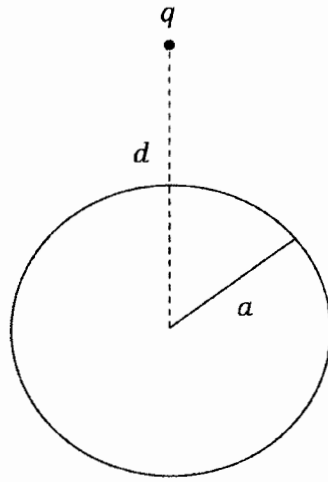
ประจุไฟฟ้า $+q$ ถูกตรึงไว้เหนือแผ่นตัวนำไฟฟ้าขนาดใหญ่เป็นระยะทาง d แผ่นตัวนำไฟฟ้านี้ต่อ ground (มีศักย์ไฟฟ้าเป็นศูนย์)



- a) จงวาดรูปเพื่อแสดงการกระจายตัวของประจุไฟฟ้าบนแผ่นตัวนำนี้ที่เกิดขึ้นจริงๆ และวาดอีกรูปหนึ่งเพื่อแสดงตำแหน่งของประจุไฟฟ้าเสมือน (image charge) [2]

- b) จงอธิบาย (ไม่จำเป็นต้องแสดงวิธีคำนวณ) วิธีการใช้ method of image และกฎของเกาส์เพื่อหาความหนาแน่นของประจุไฟฟ้าที่ระยะห่าง r จากจุด O [5]

5.

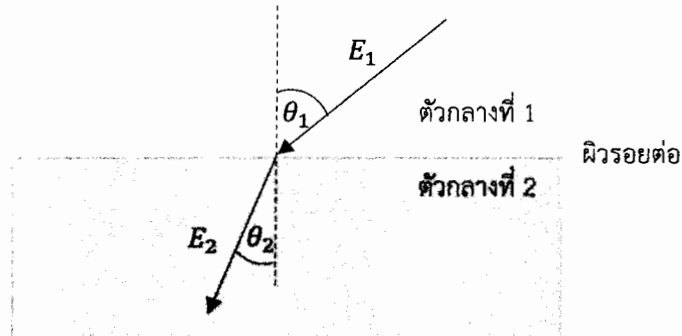


ประจุไฟฟ้า $q = 1.0 \mu\text{C}$ วางอยู่ที่ตำแหน่งห่างจากจุดศูนย์กลางของทรงกลมตัวนำเป็นระยะทาง $d = 1.0 \text{ m}$ ทรงกลมมีรัศมี $a = 0.5 \text{ m}$ ผิวของทรงกลมมีศักย์ไฟฟ้าเป็นศูนย์ (ต่อ ground)

a) จงใช้วิธี method of image เพื่อหาประจุ image charge และตำแหน่งของ image charge นี้ [7]

b) จงคำนวณหาแรงไฟฟ้าที่กระทำต่อประจุ q [3]

6. จากรูป เวกเตอร์สนามไฟฟ้า E_1 ทะลุผ่านจากตัวกลางที่มี relative permittivity เท่ากับ ϵ_1 ไปยังอีกตัวกลางหนึ่งที่มี relative permittivity เท่ากับ ϵ_2 โดยผ่านรอยต่อที่ไม่มีประจุไฟฟ้าอิสระ สนามไฟฟ้า E_1 ในตัวกลางแรกทำมุม θ_1 กับเส้นที่ลากตั้งฉาก (เส้นประ) กับผิวรอยต่อ และสนามไฟฟ้า E_2 ในตัวกลางที่สองทำมุม θ_2 กับเส้นเดียวกัน



- a) จงพิสูจน์ว่า

$$\frac{1}{\epsilon_1} \tan \theta_1 = \frac{1}{\epsilon_2} \tan \theta_2$$

[4]

กำหนดให้ ตัวกลางที่หนึ่งมี $\epsilon_1 = 3.5$ และตัวกลางที่สองมี $\epsilon_2 = 2.7$ เวกเตอร์สนามไฟฟ้า E_1 ในตัวกลางที่หนึ่งทำมุม 42° กับผิวรอยต่อ

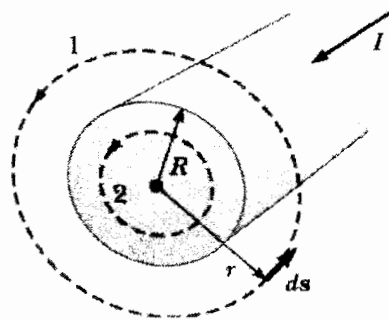
- b) จงคำนวณหาอัตราส่วน E_2/E_1 และ D_2/D_1

[6]

7. จงบอกความแตกต่างระหว่าง diamagnet, paramagnet และ ferromagnet

[5]

เส้นลวดตรงรัศมี R มีกระแสไฟฟ้า I ไหลผ่าน สนามแม่เหล็ก B จะวนเป็นวงกลมรอบแกนของเส้นลวด พิจารณาจุดหนึ่งซึ่งอยู่ห่างจากแกนของเส้นลวดเป็นระยะทาง r ตามรูป



a) จงหาสูตรของขนาดของสนามแม่เหล็ก B ทั้งในกรณีที่ $r > R$ (ภายนอก) และในกรณีที่ $r < R$ (ภายใน) [3]

b) จงให้เหตุผลว่าทำไม $\nabla \times \vec{B} = \vec{0}$ ภายนอกเส้นลวด และจงบอกว่า $\nabla \times \vec{B}$ เท่ากับปริมาณใดภายในเส้นลวด
(บอกมาเลย ไม่จำเป็นต้องแสดงวิธีคำนวณ) [2]